


## Ejercicios de Pendiente de una Recta.

Resuelve lo que se te pide:


1. Encuentra la Pendiente y el ángulo de inclinación de una línea que pasa por los puntos

A(-3,2) y B(5,4)




2. Encuentra la Pendiente si la línea un ángulo de  $67^\circ$  sobre el eje "X" y pasa por el punto

A(-3,2)



- 3. Encuentra la Pendiente si la línea un ángulo de inclinación de un línea que pasa por los puntos A(-3,2) y B(5,4)**



- 4. Encuentra la Pendiente si la línea tiene un ángulo de  $67^\circ$  sobre el eje "x" y pasa por el punto A(-3,2)**

