





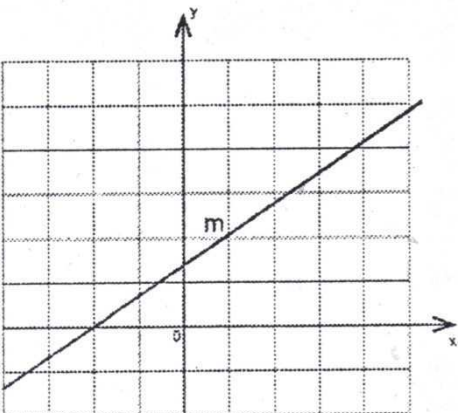
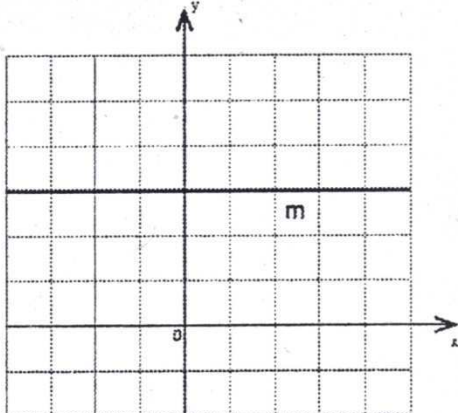
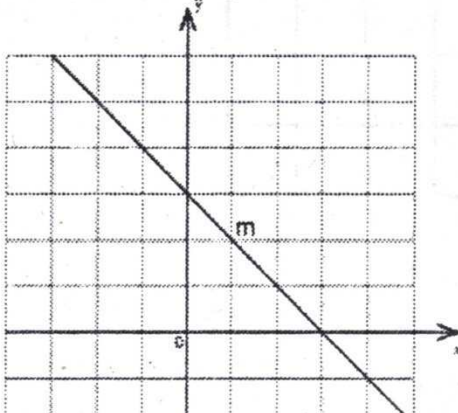
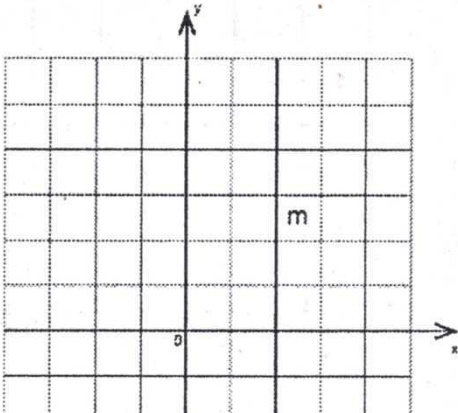
## Ejercicios de Pendiente de una Recta.

Resuelve lo que se te pide:

- Determina la pendiente de cada ejercicio que se marca sobre la línea si la pendiente es positiva, negativa, nula ó no existe.

<p><b>A(-3,6)</b> <b>B(5,6)</b></p> 	<p><b>E(7,11)</b> <b>F(7,2)</b></p> 
 <p><b>C(-2,4)</b> <b>D(3,-1)</b></p>	 <p><b>G(-2,-3)</b> <b>H(3,2)</b></p>

## Ejercicios de Pendiente de una Recta.

<p><math>m =</math> _____</p> 	<p><math>m =</math> _____</p> 
<p><math>m =</math> _____</p> 	<p><math>m =</math> _____</p> 

## Ejercicios de Pendiente de una Recta.

2. Un camión sale de una mina y recorre un tramo cuesta arriba hasta llegar a la carretera como se observa en la imagen. Suponiendo que el origen esta en el Punto A determina lo que se te pide.

